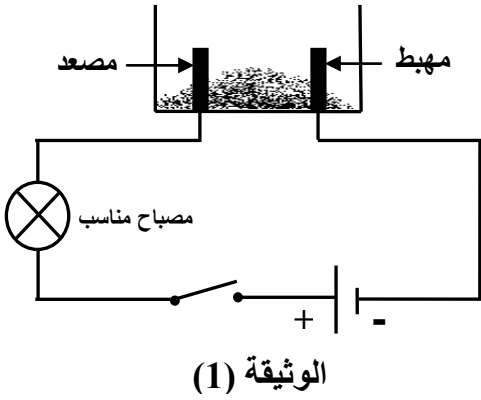


الجزء الأول: (12 نقطة)

التمرين الأول: (06 نقاط)

1. نضع في وعاء تحليل كهربائي مسرياه من الغرافيت، مسحوقا شارديا جافا "الوثيقة (1)".



الوثيقة (1)

- بعد غلق القاطعة، هل يتوهج المصباح؟ بَرّر إجابتك.

2. نضيف للمسحوق السابق ماء مقطرا لنحصل على محلول مائي

ثم نغلق القاطعة، فينتقل غاز الكلور Cl_2 عند المصعد،

وتترسب شعيرات من معدن القصدير Sn عند المهبط.

أ - استنتج الصيغة الكيميائية الشاردية لهذا المحلول.

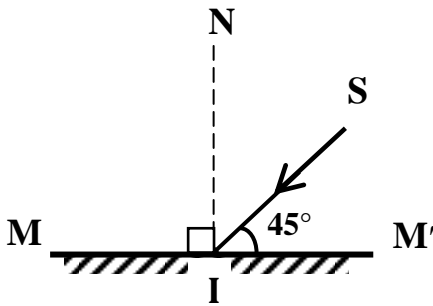
ب- اكتب المعادلة الكيميائية المنمذجة للتفاعل الحادث عند كل مسرى.

ج- استنتج المعادلة الإجمالية المنمذجة للتفاعل الكيميائي الحادث في

وعاء التحليل مع تحديد الحالة الفيزيائية لكل فرد كيميائي.

التمرين الثاني: (06 نقاط)

نسلط شعاعا ضوئيا (SI) على مرآة مستوية (MM') كما في "الوثيقة (2)".



الوثيقة (2)

1. سمّ الشعاع (SI).

2. ارسم الشعاع المنعكس.

3. ما قيمة زاوية الورود؟ استنتج قيمة زاوية الانعكاس.

4. بماذا تعلّل كتابة كلمة إسعاف أو AMBULANCE مقلوبة في مقدمة

سيارة الإسعاف بهذا الشكل (سفعاإ أو AMBULANCE) ؟

الجزء الثاني: (08 نقاط)

الوضعية الإدماجية:

اشترى صديقان سيارتين جديدتين من نفس النوع، واتفقا على التسابق أثناء عودتهما على الطريق السيار المؤدي إلى مدينتهما. بلغت سرعتهما أثناء السباق القيمة $V=130 \text{ km/h}$ ، وهما على طريق أفقي مستقيم، وكانت السيارة الأولى متقدمة عن الثانية ببضعة أمتار (الوثيقة 3)، وفجأة شاهدا في نفس اللحظة مجموعة من السيارات تعترض طريقهما إثر حادث مرور، فضغطا على الفرامل (المكابح) في آن واحد، وتوقفت العجلات المحركة عن الدوران وبدأت السيارتان بالانزلاق. اصطدمت السيارة الأولى بسيارات الحادث وأصيب صاحبها بجروح بليغة، بينما توقفت السيارة الثانية قبل الوصول إلى موقع الحادث.

1. لماذا توقفت السيارة الثانية قبل بلوغها موقع الحادث ولم تتمكن السيارة الأولى من ذلك؟

2. مثل قوة احتكاك العجلة المحركة مع الطريق لإحدى السيارتين في الحالتين التاليتين:

أ. قبل الفرملة (الكبح).

ب. أثناء الفرملة.

3. ما هي النصائح التي تقدمها لسائقي المركبات إذا علمت أن حوادث المرور في الجزائر تحصد حوالي 4000

ضحية سنويا ؟

السرعة (km/h)	مسافة توقف السيارة بعد الفرملة (m)
40	16
60	36
80	64
90	81
100	100
120	144
130	169



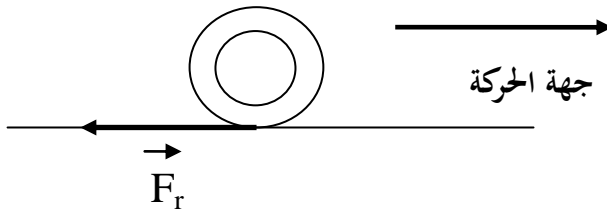
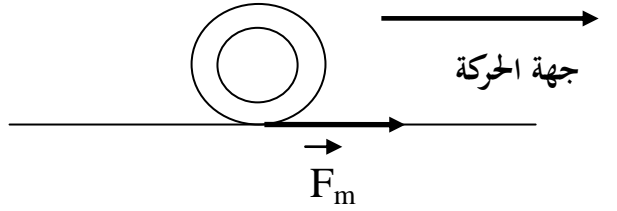
الوثيقة (3)

العلامة		عناصر الإجابة
مجموع	مجزأة	
حل التمرين الأول: (6 نقاط)		
1.5	0.5	(1) بعد غلق القاطعة لا يتوهج المصباح . التبرير: المسحوق الشاردي الجاف لا ينقل الكهرباء لأن شوارده غير حرة.
4.5	1	(2) أ- الصيغة الكيميائية الشاردية هي: ($\text{Sn}^{2+} + 2\text{Cl}^-$) ب- عند المصعد : $2\text{Cl}^- \longrightarrow \text{Cl}_2 + 2\text{e}^-$ عند المهبط: $\text{Sn}^{2+} + 2\text{e}^- \longrightarrow \text{Sn}$
	1	ج- المعادلة الإجمالية: $\text{Sn}^{2+}(\text{aq}) + 2\text{Cl}^-(\text{aq}) \longrightarrow \text{Sn}(\text{s}) + \text{Cl}_2(\text{g})$
	0.5+1	
حل التمرين الثاني: (6 نقاط)		
1	1	(1) (SI) شعاع ضوئي وارد
1	1	(2) الرسم:
2.5	0.5+1	(3) قيمة زاوية الورود : 45° ، لأن $90 - 45 = 45$
	1	قيمة زاوية الانعكاس : 45°
1.5	1.5	(4) التعليل: بما أن المرآة المستوية تعطي صورة افتراضية مقلوبة، كتبت كلمة إسعاف بشكل معكوس لكي يراها سائق السيارة التي تسير أمام سيارة الإسعاف في المرآة بشكل صحيح.

حل الوضعية :

- 1- توقفت السيارة الثانية قبل بلوغها موقع الحادث لأن مسافة الفرملة كانت كافية (أكبر أو تساوي 169 m).
- بينما لم تتوقف السيارة الأولى قبل بلوغها موقع الحادث لأن مسافة الفرملة كانت غير كافية (أقل من 169 m).

2- تمثيل قوة الاحتكاك :



3- النصائح :

- احترام مسافة الأمان بين السيارات - عدم الإفراط في السرعة - احترام قوانين المرور - عدم التجاوز الخطير...
ملاحظة: نكتفي بثلاث نصائح صائبة.

شبكة التقييم

العلامة		المؤشرات	السؤال	المعايير
المجموع	الجزأة			
2.5	0.5+0.5	- يشير إلى مسافة الفرملة لكل سيارة.	1	الوجاهة
	0.5+0.5	- يمثل قوة الاحتكاك على العجلة المحركة في الحالتين.	2	
	0.5	- يذكر بعض النصائح.	3	
3.5	0.5+0.5	- يبين أن مسافة الفرملة كانت كافية بالنسبة للسيارة الثانية أكبر أو تساوي 169 m وغير كافية بالنسبة للسيارة الأولى أقل من 169 m.	1	الاستخدام السليم لأدوات المادة
	0.5+0.5	- يمثل قوة الاحتكاك في الحالتين بشكل صحيح كما هو ممثل في الشكلين أعلاه.	2	
	0.5+0.5 +0.5	- يقدم ثلاث نصائح صحيحة على الأقل.	3	
1	0.5+0.5	- التسلسل المنطقي للأفكار . - معقولية الإجابة .	كل الأسئلة	الانسجام
1	0.5+0.5	- نظافة الورقة و قلة التشطيبات. - تنظيم الإجابة .	كل الأسئلة	الإتقان